

Enw'r Ymgeisydd	Rhif y Ganolfan	Rhif yr Ymgeisydd
		2



## TAG UG/Uwch

331/51

## CEMEG CH1

P.M. DYDD GWENER, 9 Ionawr 2009

1½ awr

ARHOLWR YN UNIG		
Adran	Cwestiwn	Marciau
A	1-8	
B	9	
	10	
	11	
	12	
CYFANSWM MARCIAU		

### DEUNYDDIAU YCHWANEGOL

Yn ogystal â'r papur arholiad hwn, bydd angen:

- cyfrifiannell;
- copi o'r **Tabl Cyfnodol** a ddarperir gan CBAC.  
Cyfeiriwch ato am unrhyw **fasau atomig cymharol** y mae eu hangen arnoch.

### CYFARWYDDIADAU I YMGEISWYR

Ysgrifennwch eich enw, rhif y ganolfan a'ch rhif ymgeisydd yn y blychau ar ben y dudalen hon.

**Adran A** Atebwch **bob** cwestiwn yn y lleoedd gwag a ddarperir.

**Adran B** Atebwch **bob** cwestiwn yn y lleoedd gwag a ddarperir.

Cynghorir ymgeiswyr i rannu eu hamser yn briodol rhwng **Adran A (10 marc)** ac **Adran B (56 marc)**.

### GWYBODAETH I YMGEISWYR

Rhoddir nifer y marciau mewn cromfachau ar ddiwedd pob cwestiwn neu ran o gwestiwn.

Y marc uchaf ar gyfer y papur hwn yw 66.

Rhaid i'ch atebion fod yn berthnasol a rhaid iddynt wneud defnydd llawn o'r wybodaeth a roddir er mwyn ennill marciau llawn am gwestiwn.

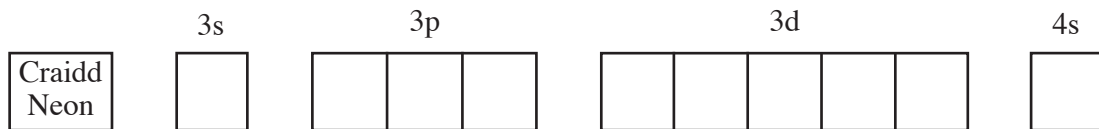
Atgoffir chi y bydd y marcio yn cymryd i ystyriaeth Ansawdd y Cyfathrebu Ysgrifenedig a ddefnyddir yn eich holl atebion ysgrifenedig.

Gellir defnyddio tudalen 13 ar gyfer gwaith bras.

## ADRAN A

Atebwch **bob** cwestiwn yn y lleoedd gwag a ddarperir.

1. Cwblhewch y diagram isod, gan ddefnyddio saethau i gynrychioli electronau, i roi ffurfwedd electronig atom manganês.



[1]

2. Cwblhewch y tabl i ddangos dargludedd **trydanol** y solidau a restrir isod.

[1]

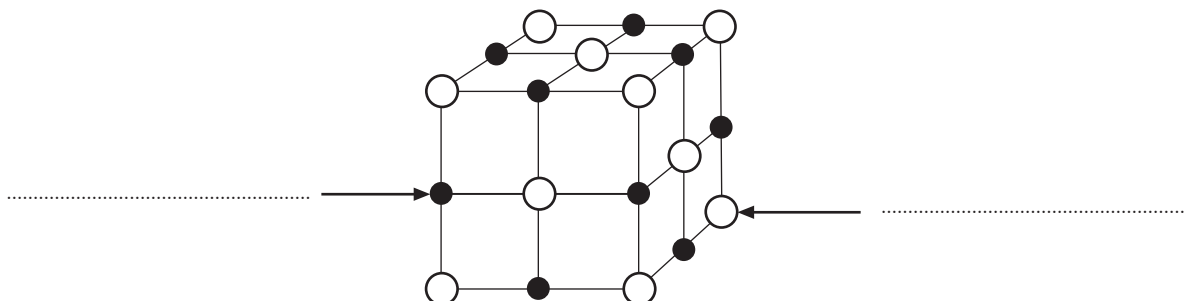
<i>Solid</i>	<i>Dargludydd</i>	<i>Annargludydd</i>
Calsiwm	✓	
Ïodin		
Sodiwm clorid		

3. Mae gan lithiwm bromid yr un adeiledd grisialog â sodiwm clorid.

- (i) Labelwch yr ïonau sy'n bresennol yn y diagram o lithiwm bromid sydd i'w weld isod.

(Cewch dybio bod yr anion yn fwy na'r cation.)

[1]



- (ii) Nodwch rifau cyd-drefnol grisial yr adeiledd.

[1]

.....

4. Gan ddefnyddio'r tabl o egniïon ìoneiddiad sydd i'w weld isod, nodwch pa **un** o'r llythrennau sy'n cynrychioli pedwar egni ìoneiddiad cyntaf elfen Grŵp II.

	<i>Egni ìoneiddiad /kJ môl<sup>-1</sup></i>			
	1af	2il	3ydd	4ydd
<b>A</b>	1520	2660	3950	5770
<b>B</b>	716	1510	3250	5190
<b>C</b>	577	1980	2960	6190
<b>Ch</b>	548	1060	4120	5440

..... [1]

5. Mae sampl o nicel yn cynnwys 60·0% o'r isotop <sup>58</sup>Ni a 40·0% o'r isotop <sup>60</sup>Ni. Gan ddefnyddio'r data, cyfrifwch fàs atomig cymharol nicel i dri ffigur ystyrllon. [2]

.....  
.....

6. Nodwch pa **un** o'r gosodiadau canlynol sy'n **gywir** ar gyfer nwy delfrydol. [1]

- A** Tybir nad oes gan nwyon delfrydol unrhyw gyfaint.  
**B** Mae'r grymoedd rhyngfoleciwlaidd yn sylweddol.  
**C** Mae'r gwasgedd mewn cyfrannedd union â'r cyfaint.  
**Ch** Mae'r cyfaint yn amrywio mewn cyfrannedd union â'r tymheredd Celfin ar wasgedd cyson.

.....

7. Cyflwr ocsidiad cromiwm mewn CrO<sub>2</sub>Cl<sub>2</sub> yw [1]

- A** +3  
**B** +4  
**C** +6  
**Ch** +8

.....

8. Ysgrifennwch hafaliad cytbwys ar gyfer adwaith calsiwm â dŵr. [1]

.....

**Cyfanswm Adran A [10]**

**Trosodd.**

## ADRAN B

Atebwch **bob** cwestiwn yn y lleoedd gwag a ddarperir.

9. (a) Enwch y gronynnau sydd i'w cael mewn niwclysau atomig a rhowch eu masau a'u gwefrau cymharol trwy gwblhau'r tabl. [2]

<i>Gronyn</i>	<i>Màs cymharol</i>	<i>Gwefr gymharol</i>

- (b) Mae atomau sydd â niwclysau ansefydlog yn ymbelydrol.

Mae pob mater organig byw yn cynnwys carbon-14, sy'n allyrru gronynnau- $\beta$  ac sydd â hanner oes 5730 o flynyddoedd.

- (i) Eglurwch beth mae'r term ***hanner oes*** isotop ymbelydrol yn ei olygu. [1]

.....

.....

- (ii) Rhowch symbol yr elfen sy'n cael ei chynhyrchu gan ddadfeiliad ymbelydrol  $^{14}\text{C}$ , gan ddangos ei rhif màs a hefyd ei rhif atomig. [1]

.....

- (iii) Nodwch beth sy'n digwydd yn niwclews atom pan fydd gronyn- $\beta$  yn ymffurfio. [1]

.....

.....

- (iv) Caiff carbon deuocsid yn yr atmosffer ei drawsnewid yn garbohydradau mewn planhigion trwy ffotosynthesis. Enwch yr elfen Grŵp II sy'n angenrheidiol ar gyfer y broses hon. [1]

.....



10. (a) Mae calsiwm yn adweithio â chlorin gan gynhyrchu calsiwm clorid.

- (i) Eglurwch, yn nhermau trosglwyddo electronau, pam mae'r adwaith rhwng calsiwm a chlorin yn broses rydocs. [2]

.....

.....

.....

- (ii) Lluniwch ddiagram dot a chroes i ddangos sut y caiff y cyfansoddyn ïonig calsiwm clorid ei ffurfio o atomau calsiwm a chlorin. Dangoswch y gwefrau ar yr ïonau sy'n cael eu ffurfio.

Dim ond electronau allanol a ddylai gael eu dangos. [2]

- (iii) Rhowch brawf a fyddai'n cadarnhau presenoldeb ïonau calsiwm yn y cyfansoddyn, gan nodi canlyniad y prawf hwn. [1]

.....

.....

- (b) Mae calsiwm clorid yn bodoli ar ffurf halwyn hydradol,  $\text{CaCl}_2 \cdot x\text{H}_2\text{O}$ . Os yw màs moleciwlaidd cymharol yr hydrad yn 219.2, cyfrifwch werth x yn y fformiwla  $\text{CaCl}_2 \cdot x\text{H}_2\text{O}$ . [3]

.....

.....

.....

.....

- (c) Nodwch beth sydd i'w weld wrth ychwanegu ïonau magnesiwm dyfrllyd at ïonau hydrocsid dyfrllyd a rhowch hafaliad ïonig ar gyfer yr adwaith.

*Arsylw* ..... [1]

*Hafaliad* ..... [1]

(ch) Mae'r hafaliad isod yn dangos 2 electron yn cael eu tynnu o elfen **X**,



Ile mae **X** yn galsiwm, magnesiwm neu sodiwm.

Mae'r tabl isod yn dangos yr egni sydd ei angen i dynnu 2 electron o bob un o'r elfennau hyn.

<b>X</b>	<i>Yr egni sydd ei angen i dynnu 2 electron /kJ mol<sup>-1</sup></i>
Ca	1735
Mg	2189
Na	5059

Eglurwch, yn nhermau adeiledd electronig yr atomau dan sylw, pam

(i) mae angen llai o egni i dynnu 2 electron o galsiwm nag o fagnesiwm, [2]

.....

.....

.....

(ii) mae angen mwy o egni i dynnu 2 electron o sodiwm nag o fagnesiwm. [2]

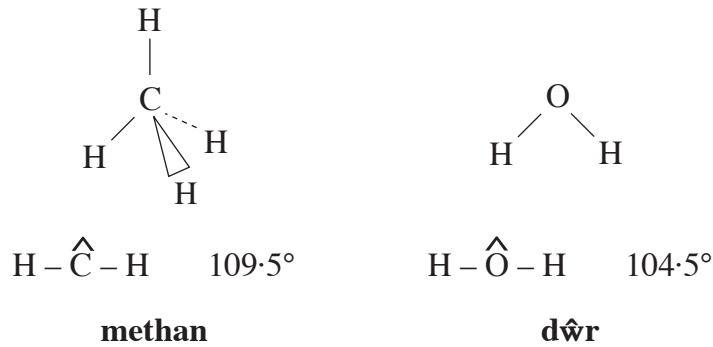
.....

.....

.....

Cyfanswm [14]

11. (a) Mae'r onglau bond mewn moleciwlau methan a dŵr i'w gweld yn y diagramau isod.



Gan ddefnyddio damcaniaeth gwrthyriad parau electron plisgyn falens (*VSEPR*),

- (i) nodwch pam mae gan fethan y siâp uchod, [2]

.....

.....

- (ii) eglurwch pam mae'r ongl bond  $\text{H} - \hat{\text{O}} - \text{H}$  mewn dŵr yn llai na'r ongl bond  $\text{H} - \hat{\text{C}} - \text{H}$  mewn methan. [2]

.....

.....

.....

- (b) Bydd methan yn adweithio â chopr(II) ocsid poeth gan gynhyrchu copr, carbon deuocsid ac ager.



- (i) Nodwch pa **un** o'r ocsidau yn yr hafaliad sy'n gallu ymddwyn fel ocsid basig, gan roi rheswm dros eich dewis. [1]

.....

.....

- (ii) Mae 3.98 g o gopr(II) ocsid yn adweithio â methan. Cyfrifwch y màs mwyaf o gopr sy'n cael ei gynhyrchu i dri ffigur ystyrlon. [3]

.....

.....

.....

.....

- (iii) Bydd methan hefyd yn adweithio â chopr(I) ocsid,  $\text{Cu}_2\text{O}$ , gan roi'r un cynhyrchion â chopr(II) ocsid.

Ysgrifennwch yr hafaliad cemegol cytbwys ar gyfer yr adwaith hwn. [1]

- (c) Mae dŵr yn hydoddydd ardderchog ar gyfer llawer o fathau gwahanol o gyfansoddion.

Eglurwch pam mae sodiwm clorid a hefyd ethanol yn hydawdd mewn dŵr.

Cewch ddefnyddio diagramau i gefnogi eich ateb.

*Sodiwm clorid*

.....

.....

.....

.....

[2]

*Ethanol*

.....

.....

.....

.....

[2]

(*ch*) Eglurwch pam mae gwasgedd anwedd dŵr yn cynyddu wrth i'r tymheredd godi. [2]

.....

.....

.....

.....

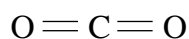
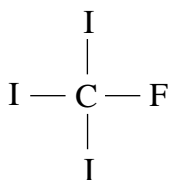
Cyfanswm [15]

12. (a) (i) Eglurwch ystyr y term *electronegatifedd*. [1]

- (ii) Mae gwerthoedd electronegatifedd rhai elfennau i'w gweld isod.

<i>Elfen</i>	C	F	I	O
<i>Gwerth electronegatifedd</i>	2.5	4.0	2.5	3.5

Gan ddefnyddio  $\delta^+$  a  $\delta^-$ , nodwch bolaredd y bondiau yn y moleciwlau isod. [2]



- (b) Mae tymhereddau berwi rhai o halidau hydrogen i'w gweld yn y tabl isod.

<i>Halidau hydrogen</i>	<i>Tymheredd Berwi / K</i>
HF	293
HCl	188
HBr	206
HI	238

Eglurwch, yn nhermau natur y bondio rhyngfoleciwlaidd sy'n bresennol, pam mae tymheredd berwi hydrogen iodid yn uwch na thymhereddau berwi hydrogen clorid a hydrogen bromid ond yn is na thymheredd berwi hydrogen fflworid. [4]

(c) Mae potasiwm iodid yn gyfansoddyn ïonig gwyn sy'n hydawdd mewn dŵr.

- (i) Rhowch brawf a fyddai'n cadarnhau presenoldeb ïonau iodid yn yr hydoddiant, gan nodi'r adweithydd(ion) a'r arsylwadau. [2]

*Adweithydd(ion)* .....

.....

*Arsylwadau* .....

.....

- (ii) Nodwch beth y byddech yn ei weld, ac ysgrifennwch hafaliad cytbwys ar gyfer yr adwaith rhwng clorin a hydoddiant potasiwm iodid. [2]

*Arsylwadau* .....

.....

*Hafaliad* .....

(ch) Mae gan iodid dros 30 o isotopau, ond dim ond un o'r rhain,  $^{127}\text{I}$ , sy'n sefydlog.

- (i) Eglurwch beth mae'r term *isotop* yn ei olygu. [1]

.....

.....

- (ii) Mae gan iodid ymbelydrol,  $^{131}\text{I}$ , hanner oes o 8 diwrnod.

Nodwch fâs yr iodid fydd yn weddill ar ôl 24 diwrnod os bydd 1.00 g o  $^{131}\text{I}$  yn bresennol ar y dechrau. [1]

.....

.....

Cyfanswm [13]

**Cyfanswm Adran B [56]**

## Gwaith Bras

A series of horizontal dotted lines for writing.