

Enw'r Ymgeisydd	Rhif y Ganolfan	Rhif yr Ymgeisydd
		0



**TGAU**

236/52

**GWYDDONIAETH**

**HAEN UWCH**

**CEMEG 1**

A.M. DYDD MERCHER, 17 Mehefin 2009

45 munud

I'r Arholwr yn unig		
Cwestiwn	Marc Mwyaf	Marc a Roddwyd
1.	7	
2.	8	
3.	6	
4.	4	
5.	6	
6.	6	
7.	9	
8.	4	
<b>Cyfanswm</b>	<b>50</b>	

**DEUNYDDIAU YCHWANEGOL**

Yn ogystal â'r papur hwn, mae'n bosibl y bydd angen cyfrifiannell a phren mesur.

**CYFARWYDDIADAU I YMGEISWYR**

Ysgrifennwch eich enw, rhif y ganolfan a'ch rhif ymgeisydd yn y blychau ar ben y dudalen hon.

Atebwch **bob** cwestiwn.

Ysgrifennwch eich atebion yn y lleoedd gwag priodol yn y llyfryn hwn.

**GWYBODAETH I YMGEISWYR**

Mae nifer y marciau wedi ei nodi mewn cromfachau ar ddiwedd pob cwestiwn neu ran o gwestiwn.

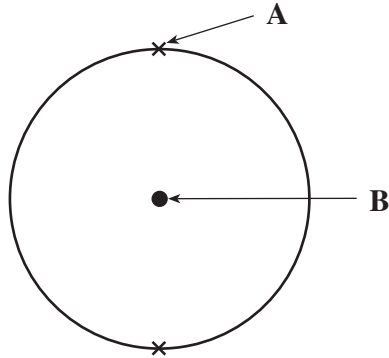
Cofiwch ddefnyddio Cymraeg da a chyflwyno'ch atebion yn drefnus.

Mae'r Tabl Cyfnodol ar glawr cefn y papur arholiad a'r fformiwlâu ar gyfer rhai ionau cyffredin y tu mewn i'r clawr cefn.

*Atebwch bob cwestiwn.*

1. Gallai Tabl Cyfnodol yr Elfennau sydd ar **dudalen gefn y papur arholiad yma** eich helpu wrth ateb y cwestiwn yma.

(a) Mae'r diagram canlynol yn dangos adeiledd atom heliwm.



(i) Enwch rannau'r atom sydd wedi'u labelu'n **A** a **B**. [2]

**A** .....

**B** .....

(ii) I. Rhowch symbol yr elfen sydd yn yr un grŵp â heliwm yn y Tabl Cyfnodol ond yng nghyfnod 2. [1]

.....

II. Rhowch adeiledd electronig yr elfen cyfnod 2 yma. [1]

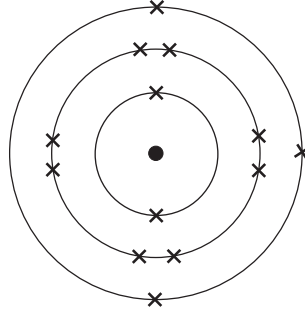
.....

(iii) Eglurwch pam mae'r elfennau hyn yn yr un grŵp yn y Tabl Cyfnodol. [1]

.....

.....

(b) Mae elfen **X** yng nghyfnod 3 y Tabl Cyfnodol. Mae atom **X** i'w weld isod.



I. Defnyddiwch y diagram uchod i egluro pam mae'r elfen hon yng nghyfnod 3. [1]

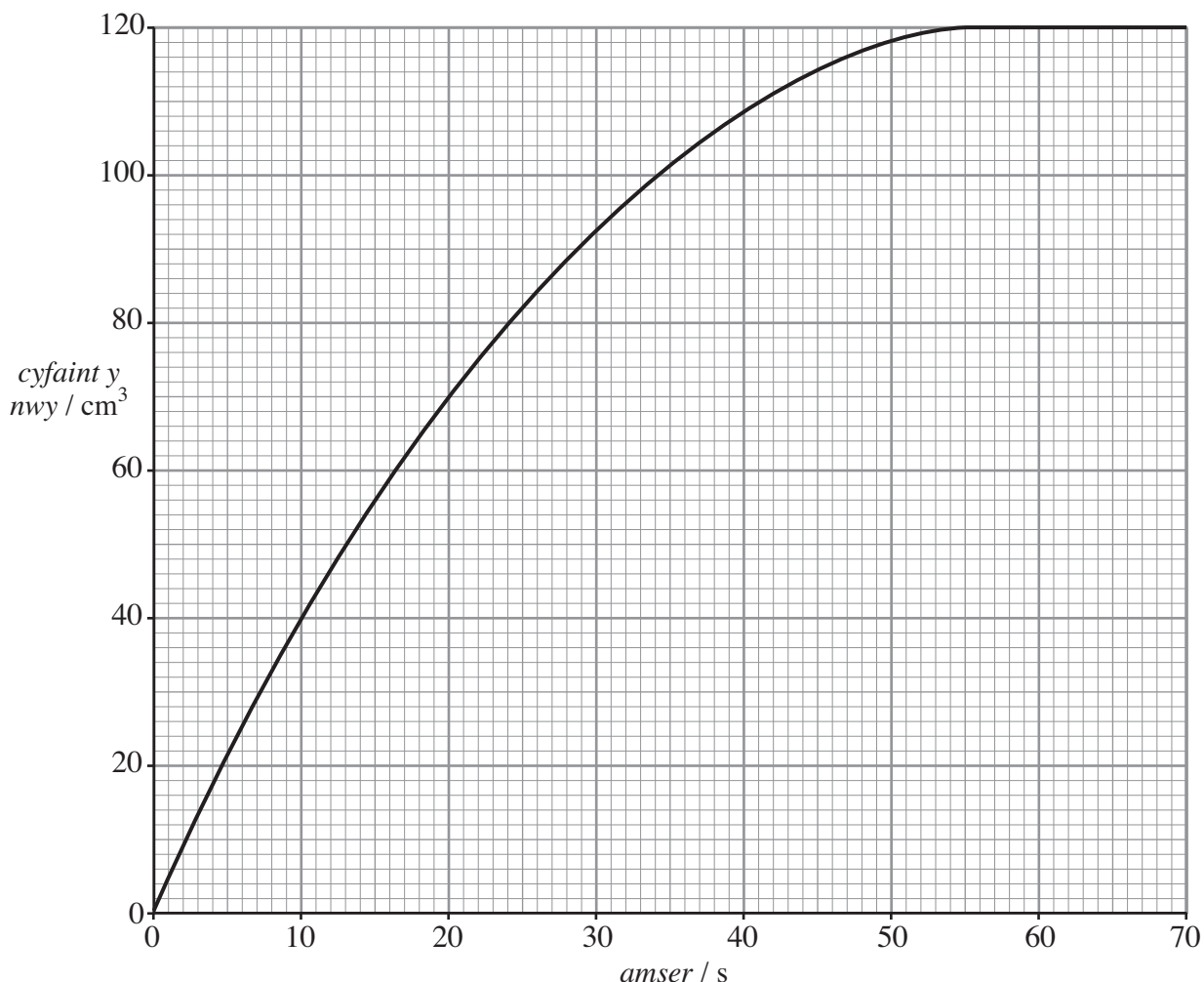
.....

.....

II. Enwch yr elfen yma. [1]

.....

2. Mae'r graff canlynol yn dangos cyfaint y carbon deuocsid sy'n cael ei gynhyrchu pan fydd gormodedd o galchfaen yn cael ei ychwanegu at  $100 \text{ cm}^3$  o asid hydroclorig ar dymheredd ystafell.



- (i) Defnyddiwch y graff i ddarganfod

I. cyfaint y carbon deuocsid sy'n cael ei gynhyrchu ar ôl 20 eiliad, [1]

.....  $\text{cm}^3$

II. yr amser mae'n ei gymryd i'r adwaith ddod i ben. [1]

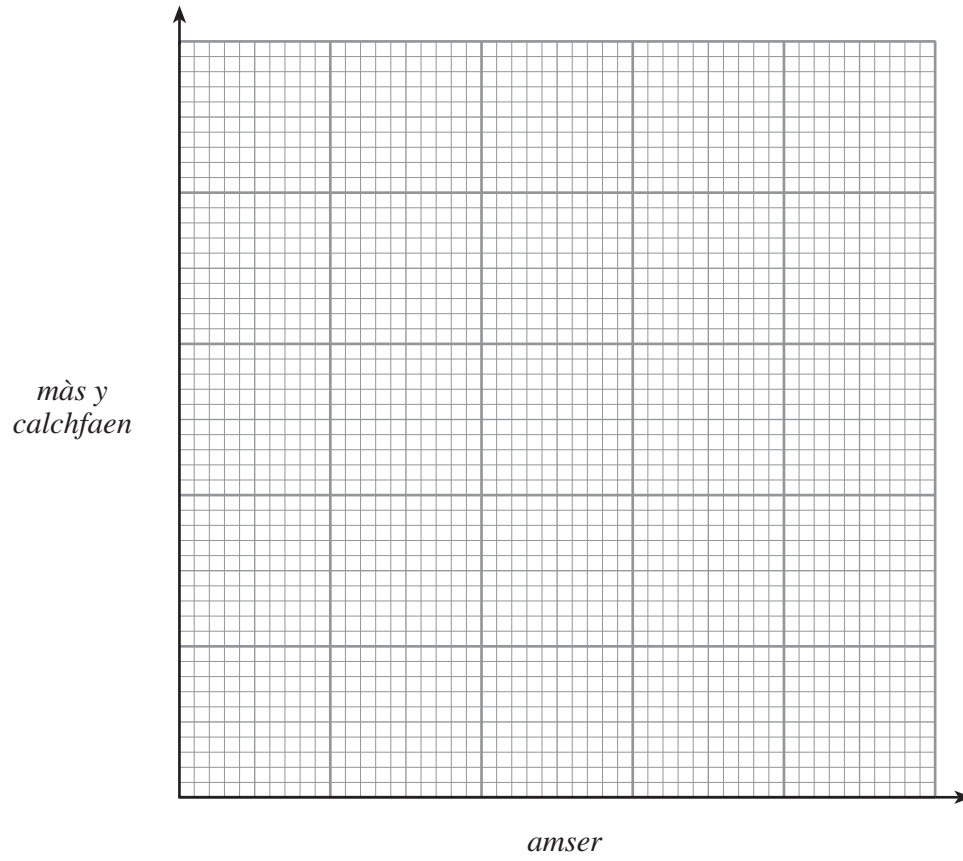
..... eiliad

- (ii) I. Ar y grid uchod, lluniwch y gromlin byddech chi'n ei disgwyl pe bai'r adwaith yn cael ei hailadrodd gan ddefnyddio union yr un cyfaint a chrynodiad o asid, ar **dymheredd uwch** gyda gormodedd o galchfaen. Labelwch y graff yn **A**. [2]

II. Yn nhermau gronynnau, rhowch reswm dros y gwahaniaeth yng nghyfradd yr adwaith. [2]

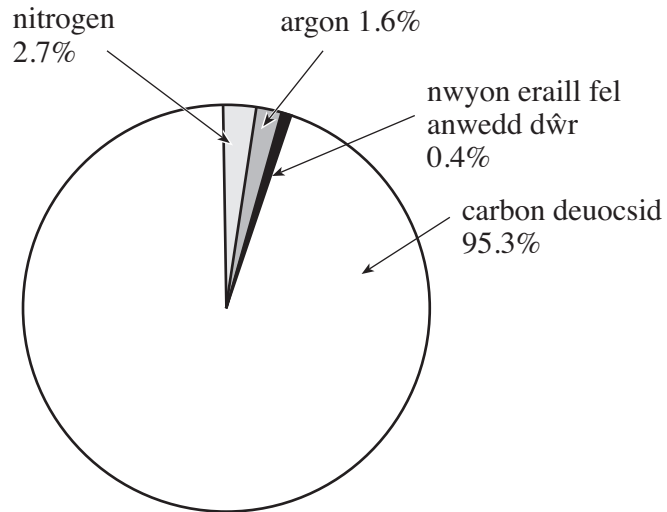
.....  
.....

- (iii) Ar y grid isod, lluniwch gromlin i ddangos sut mäs y calchfaen yn newid yn ystod yr adwaith. [2]



- 3. Mae gwyddonwyr wedi bod yn astudio'r blaned Mawrth ac maen nhw'n credu bod ei hatmosffer yr un fath ag atmosffer gwreiddiol y Ddaear. Maen nhw hefyd wedi darganfod bod iâ yn bodoli mewn craterau yno.

Mae'r siart cylch canlynol yn dangos cyfansoddiad yr atmosffer ar blaned Mawrth.



- (i) Rhowch **ddau** sylwedd sy'n cael eu henwi uchod a oedd hefyd yn **brif** nwyon yn atmosffer **cynnar** y Ddaear. [2]

..... a .....

- (ii) Mae lle i gredu y gallai'r iâ yn y craterau ar y blaned Mawrth fod wedi cael ei ffurfio o'i hatmosffer. Eglurwch sut gallai hyn fod wedi digwydd. [2]

.....  
.....

- (iii) Rhowch **ddau** wahaniaeth rhwng cyfansoddiad atmosffer Mawrth ac atmosffer y Ddaear heddiw. [2]

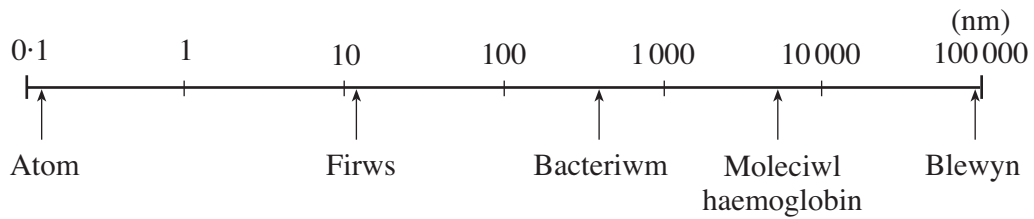
*Gwahaniaeth 1* .....

.....

*Gwahaniaeth 2* .....

.....

4. Mae'r diagram canlynol yn dangos maint gwrthrychau ar raddfa nanometr.



- (i) O'r raddfa uchod, rhwch amrediad (*range*) y gronynnau o faint nanometr sy'n cael eu defnyddio mewn nanotechnoleg. [1]
- ..... nm.
- (ii) Enwch y gwrthrych sydd i'w weld uchod sy'n cael ei ystyried i fod o faint nanometr. [1]
- .....
- (iii) Mae'n bosib rhoi tiwb plastig bioddiraddadwy wedi ei orchuddio â gronynnau arian o faint nanometr, yn llwybr wrinol (*urinary*) person i drin heintiau.
- I. Nodwch briodwedd gronynnau arian o faint nanometr sy'n caniatáu iddyn nhw gael eu defnyddio fel hyn. [1]
- .....
- II. Rhwch **un** defnydd (*use*) arall o ronynnau arian o faint nanometr sy'n dibynnu ar y briodwedd hon. [1]
- .....

5. (a) Mae gan fyfyrwr dri hydoddiant, **A**, **B** a **C**. Mae e'n gwneud profion i adnabod pob un. Mae canlyniadau'r profion i'w gweld isod.

<i>Hydoddiant</i>	<i>Prawf</i>		
	<i>Prawf fflam</i>	<i>Ychwanegu asid gwanedig</i>	<i>Ychwanegu hydoddiant arian nitrad</i>
<b>A</b>	Fflam oren-melyn	Carbon deuocsid yn cael ei gynhyrchu	Heb ei wneud
<b>B</b>	Fflam oren-melyn	Dim adwaith	Gwaddod gwyn
<b>C</b>	Fflam lelog	Dim adwaith	Gwaddod melyn

Defnyddiwch y canlyniadau uchod i adnabod y cyfansoddyn ym mhob hydoddiant. [3]

**A** .....

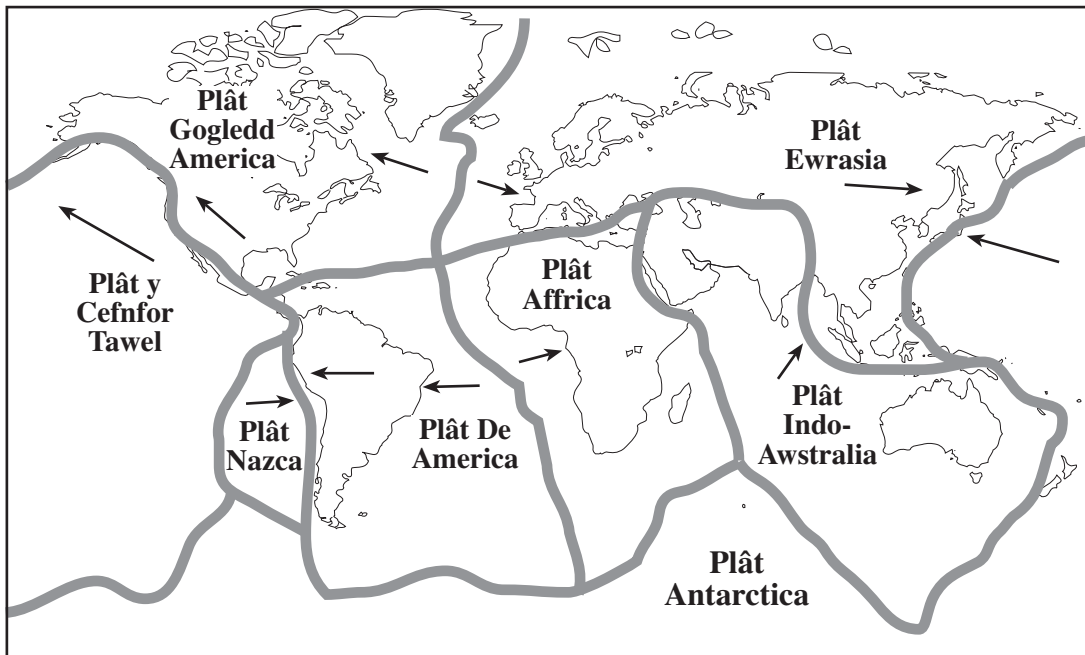
**B** .....

**C** .....

- (b) Pan fydd clorin yn cael ei ychwanegu at hydoddiant potasiwm iodid, mae'r hydoddiant yn troi'n frown. Cwblhewch a chydbwyswch yr hafaliad **symbol** canlynol ar gyfer yr adwaith yma. [3]



6. Mae'r diagram syml canlynol yn dangos ffiniau platiau tectonig y Ddaear.



(i) Eglurwch sut mae symudiad platiau De America ac Affrica yn arwain at ffurfio craig igneaid newydd. [3]

.....

.....

.....

(ii) Rhowch **X** ar y diagram i ddangos ble gallai symudiad  **dau** blât arwain at y plât mwyaf dwys yn cael ei yrru tuag i lawr. [1]

(iii) Yn 1915 fe wnaeth Alfred Wegener gynnig y syniad o ddrifft cyfandirol. Ond doedd gwyddonwyr eraill ddim wedi derbyn ei syniad tan y 1960au.

I. Rhowch **un** darn o dystiolaeth a ddefnyddiodd Wegener i gefnogi ei syniad. [1]

.....

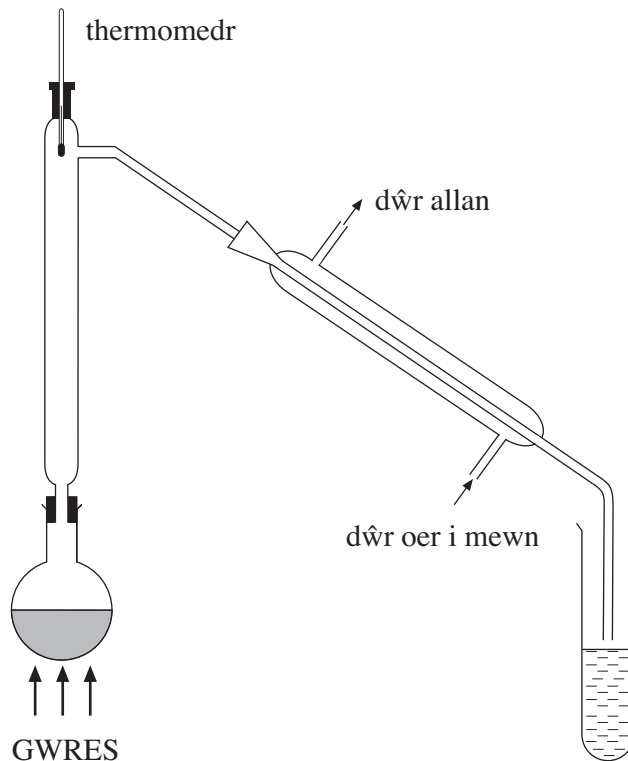
.....

II. Rhowch y prif reswm pam na chafodd ei syniadau eu derbyn ar unwaith. [1]

.....

.....

7. (a) Mae olew crai yn gymysgedd o gyfansoddion sy'n cael eu galw'n hydrocarbonau. Mae'r offer canlynol yn cael ei ddefnyddio yn y labordy i wahanu'r olew crai i'w ffracsiynau.



Eglurwch sut mae'r broses yma'n gweithio.

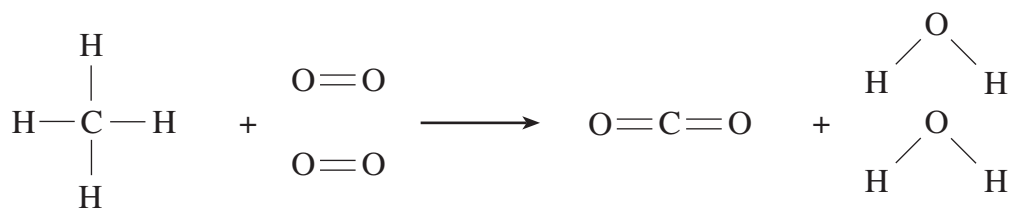
[3]

.....

.....

.....

- (b) Mae'r hafaliad isod yn dangos hylosgiad methan.

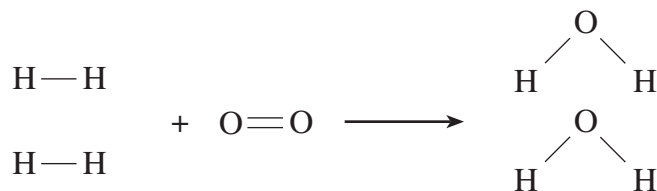


- (i) Mae'r adwaith yma'n ecsothermig ac mae'r newid egni cyflawn yn 818 kJ. Eglurwch pam mae'r adwaith yma'n ecsothermig. [1]

.....

.....

- (ii) Mae hydrogen yn danwydd da arall. Mae'r hafaliad canlynol yn dangos sut mae'n llosgi.



Mae'r tabl yn dangos y symiau cymharol o egni y mae eu hangen i dorri'r bondiau yn y diagram uchod.

Bond	Swm yr egni y mae ei angen i dorri'r bond / kJ
H—H	?
O=O	496
O—H	464

*Sylwch: Mae swm yr egni sy'n cael ei ryddhau wrth wneud bond yn hafal a dirgroes i'r swm y mae ei angen i dorri'r bond.*

- I. 488 kJ yw'r egni cyflawn sy'n cael ei ryddhau yn ystod yr adwaith yma. Gan ddefnyddio'r ffigur yma a'r tabl uchod, cyfrifwch swm yr egni y mae ei angen i dorri'r bond H—H. [4]

.....

.....

.....

.....

.....

Yr egni y mae ei angen i dorri'r bond H—H yw ..... kJ.

- II. Rhwch **un** rheswm pam mae llosgi hydrogen yn cael ei ystyried yn well i'r amgylchedd na llosgi methan. [1]

.....

8. Mae technegydd yn darganfod bod labeli wedi dod oddi ar boteli yn cynnwys y metelau alcali lithiwm, sodiwm a photasiwm. Disgrifiwch brawf syml y gallai hi ei wneud i adnabod y metelau. Nodwch ragofal diogelwch y mae'n rhaid iddi ei gymryd a disgrifiwch pa arsylwadau sydd i'w disgwyl ar gyfer pob metel. [4]

.....

.....

.....

.....

.....

.....

.....

.....

.....

# **TUDALEN WAG**

# **TUDALEN WAG**

## FFORMIWLÂU AR GYFER RHAI ÏONAU CYFFREDIN

ÏONAU POSITIF		ÏONAU NEGATIF	
Enw	Fformiwla	Enw	Fformiwla
Alwminiwm	$\text{Al}^{3+}$	Bromid	$\text{Br}^{-}$
Amoniwm	$\text{NH}_4^{+}$	Carbonad	$\text{CO}_3^{2-}$
Arian	$\text{Ag}^{+}$	Clorid	$\text{Cl}^{-}$
Bariwm	$\text{Ba}^{2+}$	Fflworid	$\text{F}^{-}$
Calsiwm	$\text{Ca}^{2+}$	Hydrocsid	$\text{OH}^{-}$
Copr(II)	$\text{Cu}^{2+}$	Ïodid	$\text{I}^{-}$
Haearn(II)	$\text{Fe}^{2+}$	Nitrad	$\text{NO}_3^{-}$
Haearn(III)	$\text{Fe}^{3+}$	Ocsid	$\text{O}^{2-}$
Hydrogen	$\text{H}^{+}$	Sylffad	$\text{SO}_4^{2-}$
Lithiwm	$\text{Li}^{+}$		
Magnesiwm	$\text{Mg}^{2+}$		
Nicel	$\text{Ni}^{2+}$		
Potasiwm	$\text{K}^{+}$		
Sodiwm	$\text{Na}^{+}$		

# TABL CYFNODOL YR ELFENNAU

**1 2**

**Grŵp**

**3**

**4**

**5**

**6**

**7**

**0**

1 H 1 Hydrogen
-------------------------

7 Li 3 Lithium	9 Be 4 Beryliwm											11 B 5 Boron	12 C 6 Carbon	14 N 7 Nitrogen	16 O 8 Ocsigen	19 F 9 Fflworin	20 Ne 10 Neon
23 Na 11 Sodiwm	24 Mg 12 Magnesiwm											27 Al 13 Alwminiwm	28 Si 14 Silicon	31 P 15 Ffosfforws	32 S 16 Sylffwr	35 Cl 17 Clorin	40 Ar 18 Argon
39 K 19 Potasiwm	40 Ca 20 Calsiwm	45 Sc 21 Scandiwm	48 Ti 22 Titanium	51 V 23 Fanadiwm	52 Cr 24 Cromiwm	55 Mn 25 Manganis	56 Fe 26 Haearn	59 Co 27 Cobalt	59 Ni 28 Nicel	64 Cu 29 Copr	65 Zn 30 Sinc	70 Ga 31 Galiwm	73 Ge 32 Germaniwm	75 As 33 Arsenig	79 Se 34 Seleniwm	80 Br 35 Bromin	84 Kr 36 Crypton
86 Rb 37 Rwbidiwm	88 Sr 38 Strontiwm	89 Y 39 Yriwm	91 Zr 40 Sirconiwm	93 Nb 41 Niobiwm	96 Mo 42 Molybdenwm	99 Tc 43 Technetiwm	101 Ru 44 Rwtheniwm	103 Rh 45 Rhodiwm	106 Pd 46 Paladiwm	108 Ag 47 Arian	112 Cd 48 Cadmiwm	115 In 49 Indiwm	119 Sn 50 Tun	122 Sb 51 Antimoni	128 Te 52 Telwriwm	127 I 53 Iodin	131 Xe 54 Senon
133 Cs 55 Cesiwm	137 Ba 56 Bariwm	139 La 57 Lanthanwm	179 Hf 72 Haffniwm	181 Ta 73 Tantalwm	184 W 74 Twngsten	186 Re 75 Rheniwm	190 Os 76 Osmiwm	192 Ir 77 Iridiwm	195 Pt 78 Platinwm	197 Au 79 Aur	201 Hg 80 Mercwri	204 Tl 81 Thaliwm	207 Pb 82 Plwm	209 Bi 83 Bismwth	210 Po 84 Poloniwm	210 At 85 Astatin	222 Rn 86 Radon
223 Fr 87 Ffranciwm	226 Ra 88 Radiwm	227 Ac 89 Actiniwm															

Allwedd:

