

Enw'r Ymgeisydd	Rhif y Ganolfan	Rhif yr Ymgeisydd
		2



## TAG UG/Uwch

331/51

## CEMEG CH1

A.M. DYDD MERCHER, 4 Mehefin 2008

1½ awr

### DEUNYDDIAU YCHWANEGOL

Yn ogystal â'r papur arholiad hwn, bydd angen:

- cyfrifiannell;
- copi o'r **Tabl Cyfnodol** a ddarperir gan CBAC. Cyfeiriwch ato am unrhyw **fasau atomig cymharol** y mae eu hangen arnoch.

### CYFARWYDDIADAU I YMGEISWYR

Ysgrifennwch eich enw, rhif y ganolfan a'ch rhif ymgeisydd yn y blychau ar ben y dudalen hon.

**Adran A** Atebwch **bob** cwestiwn yn y lleoedd gwag a ddarperir.

**Adran B** Atebwch **bob** cwestiwn yn y lleoedd gwag a ddarperir.

Cynghorir ymgeiswyr i rannu eu hamser yn briodol rhwng **Adran A (10 marc)** ac **Adran B (56 marc)**.

### GWYBODAETH I YMGEISWYR

Rhoddir nifer y marciau mewn cromfachau ar ddiwedd pob cwestiwn neu ran o gwestiwn.

Y marc uchaf ar gyfer y papur hwn yw 66.

Rhaid i'ch atebion fod yn berthnasol a rhaid iddynt wneud defnydd llawn o'r wybodaeth a roddir er mwyn ennill marciau llawn am gwestiwn.

Atgoffir chi y bydd y marcio yn cymryd i ystyriaeth Ansawdd y Cyfathrebu Ysgrifenedig a ddefnyddir yn eich holl atebion ysgrifenedig.

Gellir defnyddio tudalen 16 ar gyfer gwaith bras.

ARHOLWR YN UNIG		
Adran	Cwestiwn	Marciau
A	1-7	
B	8	
	9	
	10	
	11	
CYFANSWM MARCIAU		

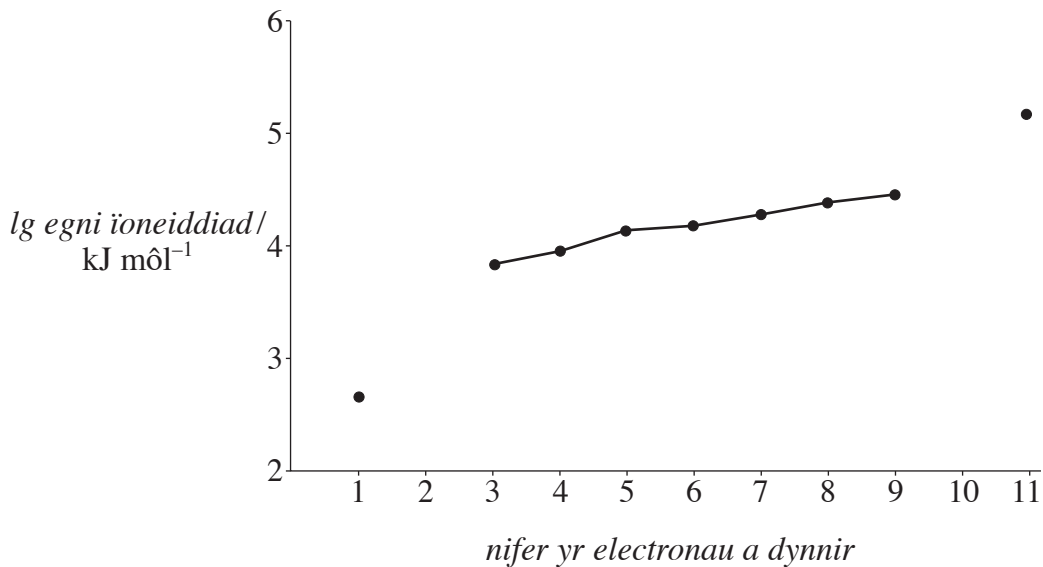
## ADRAN A

Atebwch **bob** cwestiwn yn y lleoedd gwag a ddarperir.

1. Nodwch nifer y **protonau** mewn ïon  $\text{Ca}^{2+}$ . [1]

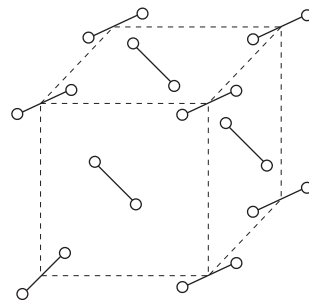
.....

2. Mae'r diagram yn dangos yr egnïon ìoneiddiad sydd eu hangen i dynnu pob un o'r 11 o electronau yn eu tro o atom sodiwm. Cwblhewch y graff trwy lenwi, â dotiau, y pwyntiau coll ar gyfer tynnu'r ail electron a'r degfed electron a'u cysylltu â'r pwyntiau cyfagos.



[2]

3. Nodwch pa un o'r solidau canlynol a gaiff ei gynrychioli gan y diagram isod:



- A** cesiwm clorid;  
**B** diemwnt;  
**C** ïodin;  
**Ch** silicon deuocsid.

[1]

.....

4. (a) Diffiniwch y *môl*. [1]

.....  
.....

(b) Nodwch pa **un** o'r canlynol yw nifer y molau o ïonau alwminiwm,  $\text{Al}^{3+}$ , mewn 0.30 môl o alwminiwm ocsid,  $\text{Al}_2\text{O}_3$ :

**A** 0.10;

**B** 0.15;

**C** 0.60;

**Ch** 0.90.

[1]

.....

5. Nodwch pa **un** o'r llythrennau canlynol sy'n cynrychioli'r math **gwannaf** o fondio:

**A** cofalent;

**B** hydrogen;

**C** ïonig;

**Ch** metelig.

[1]

.....

6. Disgrifiwch siâp *orbital-p*. [1]

.....

7. (a) Eglurwch y term *electronegatifedd*. [1]

(b) Mae'r tabl yn rhoi rhai gwerthoedd electronegatifedd.

<i>Atom</i>	Al	Be	H	Mg	N	S
<i>Electronegatifedd</i>	1.61	1.57	2.20	1.31	3.04	2.59

Dewiswch y ddau atom o'r rhestr a fyddai'n ffurfio'r **bond mwyaf polar** wrth gael eu cyfuno. [1]

**Cyfanswm Adran A [10]**

# **TUDALEN WAG**

## ADRAN B

Atebwch **bob** cwestiwn yn y lleoedd gwag a ddarperir.

8. Ym mis Tachwedd 2006, cafodd dyn o Rwsia, Alexander Litvinenko, ei ladd yn Llundain ar ôl cael ei wenwyno, mae'n debyg, gan un o isotopau ymbelydrol poloniwm,  $^{210}\text{Po}$ .

- (a) (i) Caiff symiau bach o  $^{210}\text{Po}$  eu cynhyrchu trwy beledu  $^{209}\text{Bi}$  â niwtronau.



Enwch y cynnyrch X.

[1]

- (ii) Mae  $^{210}\text{Po}$  yn dadfeilio trwy allyriant- $\alpha$ . Rhwng rif màs a symbol yr isotop sy'n cael ei ffurfio pan fydd  $^{210}\text{Po}$  yn dadfeilio trwy allyriant- $\alpha$ . [1]

Rhif màs ..... Symbol .....

- (iii) Mae  $^{210}\text{Po}$  yn dadfeilio gyda hanner oes 138 diwrnod ac mae'n debyg mai'r lefel uchaf sy'n ddiogel yn y corff yw 7 picogram. Os caiff sampl o ddŵr ei halogi â 56 picogram o  $^{210}\text{Po}$ , cyfrifwch yr amser lleiaf sy'n gorfod mynd heibio cyn i'r sampl o ddŵr gyrraedd y lefel ddiogel uchaf o  $^{210}\text{Po}$ . [2]

- (iv) Mae rhai yn amau bod y  $^{210}\text{Po}$  wedi'i smyglo i mewn i Lundain mewn cynhwysydd bach gwydr mewn bag. Eglurwch pam nad oes ond ychydig o berygl oherwydd ymbelydredd pan fydd y poloniwm mewn bag ond unwaith y bydd yn mynd i mewn i'r corff mewn bwyd neu ddiod, mae'n farwol. [2]

- (b) Mae poloniwm yn ffurfio clorid,  $\text{PoCl}_4$ , sy'n solid melyn, yn anweddol dros  $150^\circ\text{C}$  ac yn hydawdd mewn hydoddyddion amholar. Nodwch y math o fondio sy'n bresennol mewn  $\text{PoCl}_4$ . [1]

(c) Pan gafodd sampl o  $^{210}\text{PoCl}_4$  ei basio trwy sbectromedr màs, dangosodd y sbectrwm bum brig ïon moleciwlaidd yn cyfateb i fasau 350, 352, 354, 356 a 358.

(i) Nodwch y ddau isotop Cl sydd i'w cael mewn clorin naturiol. [1]

(ii) Mae pob un o'r pum ïon moleciwlaidd sy'n rhoi brigau yn sbectrwm màs  $^{210}\text{Po}$  clorid,  $^{210}\text{PoCl}_4$ , yn cynnwys un atom  $^{210}\text{Po}$  a phedwar atom Cl. Gan ddefnyddio eich ateb i (i), nodwch faint o atomau o'r ddau isotop Cl sy'n bresennol ym mhob ïon moleciwlaidd. [2]

ïon moleciwlaidd 350 .....

ïon moleciwlaidd 352 .....

ïon moleciwlaidd 354 .....

ïon moleciwlaidd 356 .....

ïon moleciwlaidd 358 .....

(iii) Eglurwch sut mae'r ïonau positif a gaiff eu cynhyrchu mewn sbectromedr màs yn cael eu **ffurfio** a'u **gwahanu**. [3]

.....

.....

.....

.....

.....

.....

Cyfanswm [13]

9. (a) Mae'r tabl yn dangos rhai o'r elfennau yn y Tabl Cyfnodol ynghyd â'r tymheredd ymdoddi ar gyfer ffurf solet bwysicaf yr elfen.

	I	II	III	IV	V	VI	VII	0
<i>Elfen</i>				C (diemwnt)				Ne
<i>Tymheredd ymdoddi / K</i>				3900				25
<i>Elfen</i>	Na	Mg	Al	Si	P	S	Cl	Ar
<i>Tymheredd ymdoddi / K</i>	371	922	933	1683	317	392	172	84

- (i) Nodwch pa rai o'r elfennau a ddangosir **na** fydd yn solidau ar dymheredd ystafell. [1]

.....

- (ii) Eglurwch, yn nhermau bondio ac adeiledd, pam mai silicon, Si, a charbon, C, sydd â'r tymhereddau ymdoddi uchaf. [2]

.....

.....

.....

- (iii) Eglurwch pam mai neon, Ne, ac argon, Ar, sydd â'r tymhereddau ymdoddi isaf. [2]

.....

.....

.....

- (iv) Eglurwch pam mae'r tymheredd ymdoddi yn cynyddu ar gyfer y gyfres Na, Mg, Al, er bod gan bob un o'r tri fondio metelig. [2]

.....

.....

.....

- (v) Eglurwch pam mae tymheredd ymdoddi Si yn is na thymheredd ymdoddi C, er bod ganddynt yr un bondio ac adeiledd. [1]

.....

.....

- (vi) Eglurwch pam mae tymheredd ymdoddi argon, Ar, yn uwch na thymheredd ymdoddi neon, Ne. [1]

.....

.....

(b) Ffurf arall ar garbon yw graffit. Disgrifiwch fondio ac adeiledd graffit.

Dylai eich ateb gynnwys

- y gwahanol fathau o fondio sy'n bresennol
- trefniant yr atomau
- sut mae'r bondio yn effeithio ar y dargludedd trydanol a phriodweddau ffisegol eraill.

[4]

.....

.....

.....

.....

.....

.....

.....

.....

.....

Cyfanswm [13]

# TUDALEN WAG

10. Mae bariwm hydrocsid grisialog yn bodoli fel hydrad,  $\text{Ba}(\text{OH})_2 \cdot x\text{H}_2\text{O}$ , sy'n hydoddi mewn dŵr.

(a) Eglurwch y rhyngweithiadau rhwng ïonau a moleciwlau dŵr. [3]

.....

.....

.....

.....

.....

.....

(b) Enwch brawf, a'r canlyniad disgwylidig, y gallech ei ddefnyddio i ddangos presenoldeb ïonau bariwm yng ngrisialau'r hydrad. [1]

.....

.....

(c) Mäs molar bariwm hydrocsid hydradol,  $\text{Ba}(\text{OH})_2 \cdot x\text{H}_2\text{O}$ , yw  $315.46 \text{ g mol}^{-1}$ .

(i) Ar ôl dileu'r holl foleciwlau dŵr, mae'r mäs molar yn disgyn i  $171.30 \text{ g mol}^{-1}$ . Cyfrifwch werth  $x$  yn y fformiwla  $\text{Ba}(\text{OH})_2 \cdot x\text{H}_2\text{O}$ . [2]

.....

.....

.....

(ii) Hydoddedd bariwm hydrocsid hydradol yw  $5.60 \text{ g}$  ym mhob  $100 \text{ cm}^3$  o ddŵr ar dymheredd ystafell. Cyfrifwch, i dri ffigur ystyrlon, hydoddedd bariwm hydrocsid mewn  $\text{mol dm}^{-3}$ . [2]

.....

.....

.....

(iii) Gan roi eich rheswm/rhesymau, nodwch a fydd calsiwm hydrocsid yn fwy neu'n llai hydawdd na bariwm hydrocsid. [1]

.....

.....

(ch) (i) Eglurwch y term *ocsidydd*. [1]

.....

.....

(ii) Nodwch, gan roi rheswm, a yw clorin,  $\text{Cl}_2$ , yn ocsidydd cryfach neu wannach na bromin,  $\text{Br}_2$ . [1]

.....

.....

.....

(iii) Ysgrifennwch hafaliad ar gyfer adwaith clorin â dŵr a, thrwy nodi'r rhifau ocsidiad, eglurwch pam mae'r adwaith hwn yn adwaith rhydocs. [3]

.....

.....

.....

.....

(iv) Amlinellwch brawf, a'r arsylwadau disgwylidig, i ddangos presenoldeb ionau clorid,  $\text{Cl}^-$ , mewn hydoddiant dyfrllyd. [2]

.....

.....

.....

Cyfanswm [16]

11. Mae'r cwestiwn hwn yn ymwneud â rhai o gyfansoddion ffosfforws, P, rhif atomig 15.


(a) Nodwch y ffurfwedd is-blisgyn electronig lawn ar gyfer atom ffosfforws. [1]

(b) Fformiwla foleciwlaidd ffosfforws(V) ocsid yw  $P_4O_{10}$ .

(i) Nodwch fformiwla empirig ffosfforws(V) ocsid. [1]

(ii) Nodwch y bondio a'r math o adeiledd sydd i'w cael mewn  $P_4O_{10}$  solet. [1]

(c) Caiff ffosfforws(V) ocsid ei ddefnyddio fel sychiadur (*desiccating agent*) i ddileu dŵr oherwydd yr adwaith isod.



(i) Cyfrifwch fâs molar ( $g\ mol^{-1}$ ) ffosfforws(V) ocsid. [1]

(ii) Cyfrifwch y màs mwyaf o ddŵr y mae'n bosibl ei ddileu trwy adwaith â 28.4g o ffosfforws(V) ocsid. [2]

(ch) Mae asid ffosfforig(V),  $H_3PO_4$ , a gaiff ei gynhyrchu pan fydd ffosfforws(V) ocsid yn adweithio â dŵr, yn gemegyn pwysig sy'n cael ei ddefnyddio ar gyfer llawer o wahanol bethau, o ddiodydd "cola" i dynnu rhwd. Mae ei halwynau, fel calsiwm ffosffad, hefyd yn bwysig.

(i) Ysgrifennwch y fformiwla ar gyfer calsiwm ffosffad. [1]

(ii) Rhowch **un** enghraifft o bwysigrwydd calsiwm ffosffad. [1]

(d) Mae ffosfforws yn ffurfio dau glorid, ffosfforws(V) clorid,  $\text{PCl}_5$  a ffosfforws(III) clorid,  $\text{PCl}_3$ .

(i) Lluniwch ddiagram dot a chroes i ddangos y bondio mewn ffosfforws(III) clorid,  $\text{PCl}_3$ , a defnyddiwch y diagram hwn i egluro'r term *pâr unig o electronau*. [2]

*Diagram*

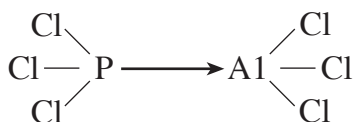
*Pâr unig o electronau* .....

(ii) Dangoswch siapiau moleciwlau nwyol  $\text{PCl}_5$  a  $\text{PCl}_3$ , naill ai trwy lunio diagram neu drwy eu henwi. [2]

siâp  
 $\text{PCl}_5$

siâp  
 $\text{PCl}_3$

(iii) Mae  $\text{PCl}_3$  yn adweithio ag alwminiwm clorid gan ffurfio cyfansoddyn



Eglurwch arwyddocâd y saeth yn yr adeiledd hwn. [2]

.....

.....

.....

Cyfanswm [14]

**Cyfanswm Adran B [56]**

## Gwaith Bras

A series of horizontal dotted lines for writing.